

Semaine 1 : Mercredi**1** Relie chaque événement avec la durée qui lui correspond.

Combien dure environ...

une récréation

8 heures

une nuit de sommeil

30 secondes

un film au cinéma

15 minutes

un spot publicitaire

1 h 40 min

2 Complète avec l'article *le, la, l' ou les* qui convient.

..... bureau feuilles bouteille
..... sifflet joie adresse
..... témoin chevaux rue
..... obstacle opération dizaine
..... kilomètres portière paniers
..... dépanneuse nappe mois
..... neveu victoire	

3 Recopie les mots en les classant dans l'ordre alphabétique.

lacet - lait - lampe - large - lavabo

.....

.....

4 Complète avec <, = ou >.

$6 \times 4 \quad ? \quad 3 \times 8$

$24 \quad = \quad 24$

$7 \times 5 \quad ? \quad 6 \times 6$

.....

$6 \times 5 \quad ? \quad 8 \times 4$

.....

$0 \times 6 \quad ? \quad 9 \times 0$

.....

$10 \times 4 \quad ? \quad 7 \times 6$

.....

$3 \times 10 \quad ? \quad 5 \times 6$

.....

$2 \times 6 \quad ? \quad 3 \times 5$

.....

$6 \times 8 \quad ? \quad 10 \times 5$

.....

Semaine 1 : Jeudi

- 1** Voici un extrait du programme d'une chaîne télévisée consacrée aux documentaires :

Réponds aux questions.

Mardi 23 mars

16 h 05 - *Les peintres de la Renaissance*
 16 h 45 - *Les espèces animales menacées*
 17 h 30 - *Les découvertes scientifiques du XX^e siècle*
 19 h 00 - *Les peuples du Pacifique*


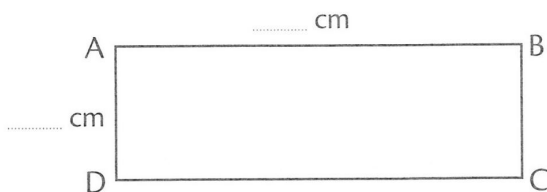
- Quel documentaire commence à 5 heures moins le quart ?
- Quel documentaire passe à la télévision à 16 h 30 ?
- À quelle heure commence "Les peuples du Pacifique" ? À heures du soir.

- 2** Complète le tableau avec «oui» ou «non».

	4 côtés égaux	4 angles droits
losange \diamond		
carré \square	oui	
rectangle \square		

- 3** • **Mesure** la longueur et la largeur du rectangle ABCD, puis **écris**-les sur la figure.

- **Reproduis** le rectangle ABCD.



- 4** Classe les verbes

grossir - rassurer - obtenir - réclamer - disparaître - remercier - souffrir - mettre - éviter - refroidir - aller - tricher - avertir

1er groupe	2ème groupe	3ème groupe

Semaine 1 : Samedi

1 Relie les dates qui correspondent.

13/07/09	20 août 2009
29/04/09	29 février 2004
20/08/09	13 juillet 2009
29/02/04	10 janvier 2010
10/01/10	29 avril 2009

2 Compare les durées en complétant avec <, = ou >.

- 2 jours 48 heures
- 100 minutes 2 heures
- 90 secondes 1 minute 20 secondes
- 55 minutes 1 heure
- 2 h 15 min 125 min
- 180 secondes 3 minutes
- 3 quarts d'heure 40 minutes
- 4 jours 90 heures

3 Range les produits dans l'ordre croissant.

7 x 2 =	6 x 8 =	7 x 9 =	5 x 3 =
3 x 9 =	7 x 7 =	7 x 4 =	10 x 6 =

7 x 2,,,,,,,

4 Indique le temps des phrases (passé - présent - futur)


- En suivant, ce couloir, tu trouveras la sortie. →
- Les hommes préhistoriques ne savaient pas écrire. →
- Vous ramasserez les vieux papiers pour les recycler. →
- Le directeur fait l'appel des élèves. →
- Vous ne vous plaignez pas de la chaleur . →

5 Dans chaque phrase, souligne le verbe en rouge et le groupe sujet en bleu. Recopie la phrase en remplaçant le groupe sujet par le pronom personnel qui convient.

- Jean claque la porte brutalement. →
- Julie et moi ramassons des pommes. →
- Dylan travaille loin de chez lui. →
- Le travail de Julie est très intéressant. →

Semaine 2 : Mardi

1 Termine le carré de 4 cm de côté (tu peux t'aider du quadrillage).



2 Pose et calcule.

$$488 - 214$$



$$770 - 351$$



3 Écris ces nombres en lettres.

1 319 :

556 :

7 478 :

4 Calcule les additions.

$$\begin{array}{r} 2 \text{ € } 30 \text{ c} + 4 \text{ € } 20 \text{ c} \\ \hline \text{€} + \text{ c} \\ \hline = \text{€} + \text{ c} \end{array}$$

$$\begin{array}{r} 10 \text{ € } 50 \text{ c} + 70 \text{ c} \\ \hline \text{€} + \text{ c} \\ \hline \text{€} + \text{€} + \text{ c} \\ \hline = \text{€} + \text{ c} \end{array}$$

$$\begin{array}{r} 2 \text{ € } 65 \text{ c} + 1 \text{ € } 35 \text{ c} \\ \hline \text{€} + \text{ c} \\ \hline \text{€} + \text{€} = \text{€} \end{array}$$

5 Complète avec les formes au présent de l'indicatif des verbes être et avoir qui conviennent.

Je n'..... pas assez d'imagination pour inventer une histoire.

.....-vous assez chaud sans bonnet ?

Tu soigneux dans ton travail.

Les marionnettes des fils pour les animer.

Il minuit : les fantômes de retour.

Les sapins des aiguilles et les platanes des feuilles.

Les athlètes sur la piste.

Nous des arcs de débutants.

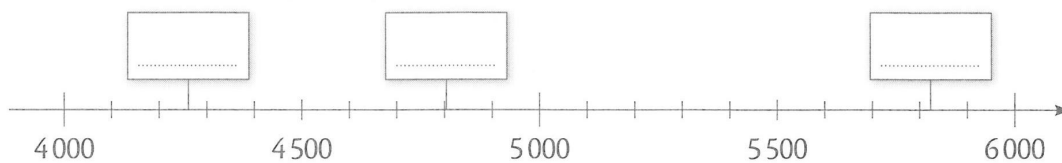
Il difficile de savoir si tu de la chance ou si tu un bon joueur.

Semaine 2 : Mercredi

1 Découpe les horloges, puis colle-les dans les cases qui conviennent.

4 heures 20 du matin	19 : 35	13 h 15	8 heures moins le quart

2 Place les nombres 5 822, 4 261, 4 803 sur l'axe.



Encadre chaque nombre :

- entre ses deux milliers les plus proches

..... < 4 261 <

..... < 4 803 <

..... < 5 822 <

- entre ses deux centaines les plus proches

..... < 4 261 <

..... < 4 803 <

..... < 5 822 <

3 Conjugue les verbes entre parenthèses au présent de l'indicatif.

Les usines de matières plastiques parfois les rivières. (*polluer*)

Vous les questions et vous les réponses. (*écouter / chercher*)

Je par perdre patience. (*finir*)

Nous nos amis car nous en retard. (*avertir / être*)

Les brocanteurs les greniers à la recherche d'objets rare. (*fouiller*)

Les poires sur l'arbre; il faut les cueillir. (*pourrir*)

Le rire de bien des soucis. (*guérir*)

Nous de deux en deux. (*compter*)

Je la rue sur les passages protégés. (*traverser*)

Léo et toi des rayons du soleil sur la plage. (*profiter*)

Vous à l'approche du carrefour. (*ralentir*)

D'autres exercices en lignes sur le blog des exercices de français...

